

Вариант 10

$$\sin \frac{\pi(4x-3)}{4} = 1.$$

1. Решите уравнение

В ответе напишите наибольший отрицательный корень.

$$\cos \alpha = \frac{\sqrt{10}}{10}$$

2. Найдите  $\operatorname{tg} \alpha$ , если

$$\alpha \in (1, 5\pi; 2\pi).$$

3. Найдите значение выражения

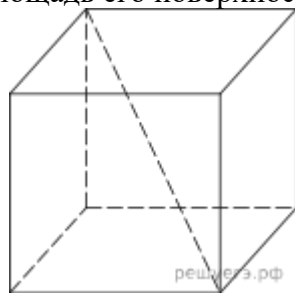
$$\frac{\sqrt{3} - \sqrt{12} \sin^2 \frac{5\pi}{12} - 10 \sin 97^\circ \cdot \cos 97^\circ}{\sin 194^\circ}.$$

4. Найдите значение выражения

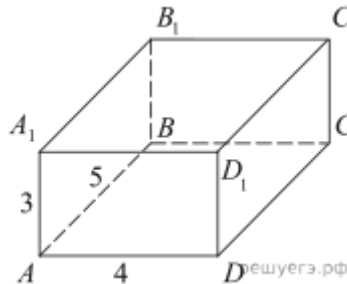
$$\frac{2 \cos \alpha - 8 \sin \alpha + 10}{4 \sin \alpha - \cos \alpha + 5}$$

5. Найдите  $\frac{4 \sin \alpha - \cos \alpha + 5}{4 \sin \alpha - \cos \alpha + 5}$ , если  $\operatorname{tg} \alpha = 0,25$ .

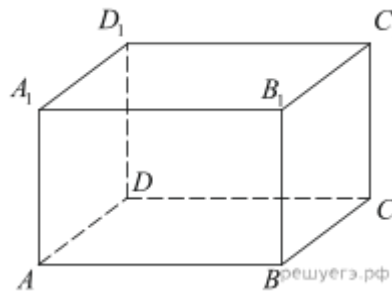
6. Диагональ куба равна 6. Найдите площадь его поверхности.



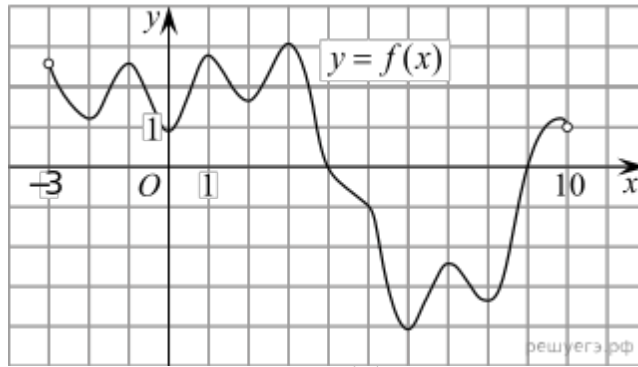
7. Найдите расстояние между вершинами  $A$  и  $D_1$  прямоугольного параллелепипеда, для которого  $AB = 5$ ,  $AD = 4$ ,  $AA_1 = 3$ .



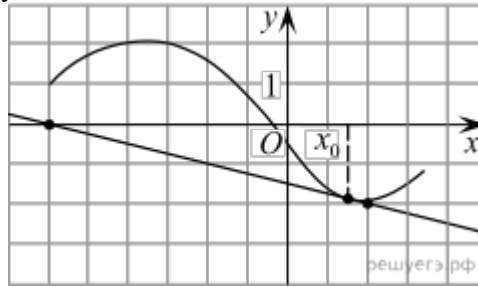
8. Найдите синус угла между прямыми  $AC$  и  $B_1C_1$  прямоугольного параллелепипеда  $ABCD A_1 B_1 C_1 D_1$ , у которого  $AB = 5$ ,  $AD = 10$ ,  $AA_1 = 9$ .



9. На рисунке изображён график функции  $y = f(x)$ , определённой на интервале  $(-3; 10)$ . Найдите количество точек, в которых производная функции  $f(x)$  равна 0.



10. На рисунке изображён график функции  $y = f(x)$  и касательная к нему в точке с абсциссой  $x_0$ . Найдите значение производной функции  $f(x)$  в точке  $x_0$ .



11. Материальная точка движется прямолинейно по закону  $x(t) = \frac{1}{4}t^2 + t - 10$  (где  $x$  — расстояние от точки отсчета в метрах,  $t$  — время в секундах, измеренное с начала движения). В какой момент времени (в секундах) ее скорость была равна 5 м/с?

12. Материальная точка движется прямолинейно по закону  $x(t) = \frac{1}{2}t^4 + 4t^3 - 3t - 21$  (где  $x$  — расстояние от точки отсчета в метрах,  $t$  — время в секундах, измеренное с начала движения). Найдите ее скорость (в м/с) в момент времени  $t = 1$  с.

13. Найдите наименьшее значение функции  $y = x^3 + 12x^2 + 15$  на отрезке  $[-2; 2]$ .

14. Найдите производную в указанной точке  $y = 5\sin x - 6\cos x - 12x + 4\sqrt{\pi}$  в точке  $-\pi$ .

15. Из точки  $A$  к данной плоскости проведены перпендикуляр и наклонная, пересекающие плоскость соответственно в точках  $B$  и  $C$ . Найдите отрезок  $CB$ , если  $AB = 20\sqrt{3}$  см, угол  $BAC$  равен  $60^\circ$ .

16. а) Решите уравнение  $2\cos^2\left(\frac{\pi}{2} + x\right) = \sqrt{2}\sin x$ .

б) Найдите все его корни, принадлежащие отрезку  $\left[-5\pi; -\frac{7\pi}{2}\right]$ .